



## EVALUACIÓN DE DIAGNOSTICO

- Esta evaluación de diagnóstico está creada en función de la priorización de objetivos planteada en octavo año de enseñanza básica para el año 2020 en consideración con el Estado de emergencia sanitaria en el cual se encuentra el país.
- Los resultados obtenidos, se medirán en relación a la escala: LOGRADO, MEDIANAMENTE LOGRADO y NO LOGRADO.
- Recuerde que los resultados obtenidos de esta evaluación serán utilizados para mejorar sus aprendizajes y reforzar los contenidos y habilidades que estudió durante el 2020.


Habilidades a trabajar: Pensamiento temporal y espacial -Análisis y trabajo con fuentes de información - Pensamiento crítico - Comunicación

Objetivos de aprendizaje abordados: OA3- OA9 - OA12- OA16- OA21- OA5


1. Observe la imagen que se presenta a continuación y determine cual es la teoría que represente, describiendo sus principales características (3 puntos)





2. Identifique la época histórica que representa la imagen y describala de acuerdo con las características propias de dicha época (6 puntos)




3. Identifique la época histórica que representa la imagen y descríbala de acuerdo con las características propias de dicha época (6 puntos)



4. Identifique la época histórica que representa la imagen y descríbala de acuerdo con las características propias de dicha época (6 puntos)



5. Identifique la época histórica que representa la imagen y descríbala de acuerdo con las características propias de dicha época (6 puntos)



6. ¿Cuáles fueron los beneficios del desarrollo de la agricultura y la ganadería durante la prehistoria? (3 puntos)

7. ¿Cuáles son las características que definen una civilización? Determine 3 (3 puntos)

8. Describa la forma de vida que tuvieron las primeras civilizaciones de la humanidad durante la Edad Antigua por medio de la caracterización de una de ellas (3 puntos)

9. Narre el paso de la Edad Antigua a la Edad Moderna considerando: El desarrollo de las tradiciones grecorromana, judeocristiana y germana, El auge político de la Iglesia Católica y la fragmentación de la unidad imperial de Occidente (3 puntos)

10. ¿Cuál es la importancia del Mar mediterráneo para el desarrollo de las primeras civilizaciones?  
(6 puntos)

11. ¿Cuál fue la religión mas importante en la Edad Media? Justifique su elección (3 puntos)

12. Describa como el renacimiento de la vida hizo una transformación estructural durante la edad media (3 puntos)

13. ¿Cuáles son los factores influyen para que una sociedad se haciente en un territorio? Señale y describa uno de ellos (3 puntos)